

(двойной лист)

Оформление титульного листа для зачёта

Дифференцированный зачёт
по дисциплине «Обществознание»
студента ГБПОУ НСО «Тогучинский политехнический колледж»
специальность 35.02.01 Лесное и лесопарковое хозяйство

группа Л-230911

ФИО

Вариант (по списку)

Дата 21.12 2023

Дифференцированный зачёт согласно варианту:

порядковые номера: 1-5 (вариант 1)

порядковые номера: 6-11 (вариант 2)

порядковые номера: 12-17 (вариант 3)

порядковые номера: 18-25 (вариант 4)

№	ФИО студента
1	Гарматюк Александр Денисович
2	Гарматюк Александра Сергеевна
3	Глебова Елена Александровна
4	Демиденко Роман Андреевич
5	Забродин Георгий Вячеславович
6	Киселёва Доминика Артёмовна
7	Клименок Андрей Евгеньевич
8	Колмагоров Дмитрий Андреевич
9	Комболин Данил Сергеевич
10	Москвин Иван Викторович
11	Николаев Николай Андреевич
12	Овчинникова Карина Андреевна
13	Пенкина Вероника Сергеевна
14	Подмазов Владислав Сергеевич
15	Поленчик Мария Сергеевна
16	Поляничкина Антонина Сергеевна
17	Пятакова Ирина Евгеньевна
18	Рыжаков Вячеслав Павлович
19	Стаценко Тихон Васильевич
20	Чагина Анастасия Андреевна
21	Чуфаров Егор Вячеславович
22	Шестакова Дарья Евгеньевна
23	Шефер Михаил Максимович
24	Шилова Анастасия Константиновна
25	Сызранцев Константин Дмитриевич

ВАРИАНТ № 1

1. В приведённом ниже ряду найдите понятие, которое обобщает/включает все остальные представленные понятия. Запишите это слово (словосочетание).

Потребность, мировоззрение, сила воли, интересы, личность.

Ответ: _____.

2. Общество – это:

- A) движение от менее совершенного к более совершенному;
- B) способы взаимодействия и формы объединения людей;
- C) часть природы;
- D) весь материальный мир.

Ответ:

3. И человеку, и животному свойственны потребности в:

- A) самореализации;
- B) самосохранении;
- C) самопознании;
- D) самообразовании

Ответ:

4. Выберите верные суждения об искусстве и запишите цифры, под которыми они указаны.

- 1) Искусство влияет на мировоззрение личности.
- 2) Искусство позволяет теоретически объяснить общественные явления.
- 3) Произведения искусства помогают человеку восстановить душевную гармонию, реализовать творческий потенциал.
- 4) Искусство помогает привлечь внимание общества к социальным и нравственным проблемам.
- 5) Роль искусства проявляется в оппонировании научным концепциям.

Ответ: _____.

5. В стране Z происходит широкое внедрение компьютерной техники в различные области жизни. Какие иные признаки из перечисленных свидетельствуют о том, что страна Z развивается как постиндустриальное общество? Запишите цифры, под которыми они указаны.

- 1) В экономике страны Z высокий удельный вес занимает сфера услуг.
- 2) В целях регуляции социальных отношений издаются правовые акты.
- 3) Социальная мобильность затруднена.
- 4) Природные факторы оказывают влияние на развитие общества.
- 5) Информационные технологии являются важнейшим фактором производства.
- 6) Наибольшее развитие получают наукоёмкие, ресурсосберегающие отрасли производства.

Ответ: _____.

6. Выберите верные суждения о государственном бюджете и запишите цифры, под которыми они указаны.

- 1) К расходам бюджета относится обслуживание государственного долга.
- 2) Государственный бюджет финансово обеспечивает экономическую политику государства.
- 3) Государственный бюджет является сбалансированным, когда доходы и расходы примерно равны.
- 4) Одна из статей доходов государственного бюджета – развитие инфраструктуры.
- 5) Дефицит государственного бюджета характеризуется превышением доходов государства над расходами.

Ответ: _____ .

7. Установите соответствие между формами культуры и их характеристикой: к каждому элементу, данному в первом столбце, подберите соответствующий элемент из второго столбца.

ПРОЯВЛЕНИЯ

ТЕНДЕНЦИЯ

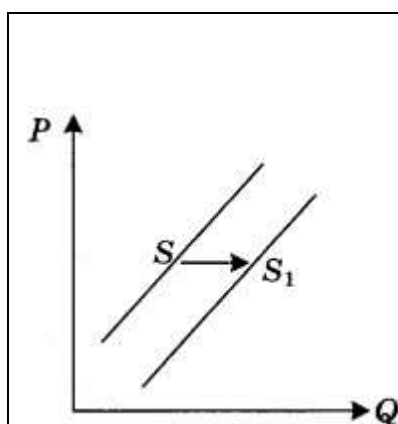
- А) возникновение в индустриальном обществе
- Б) отражение ценностей, понятных большинству
- В) необходимость специальной подготовки зрителя
- Г) на первом месте стоит творческое самовыражение автора
- Д) передается в устной форме в ходе коллективной творческой деятельности этноса

- 1) народная культура
- 2) массовая культура
- 3) элитарная культура

Запишите выбранные цифры под соответствующими буквами.

Ответ:

- 1 На графике отражена ситуация на рынке парикмахерских услуг: линия предложения S переместилась в новое положение — S_1 (P — цена товара, Q — количество товара).



Какие из перечисленных факторов могут вызвать такое изменение? Запишите цифры, под которыми они указаны.

- 1 расширение сети парикмахерских
- 2 новые модные веяния в стилях причесок
- 3 снижение налогов с предприятий малого бизнеса
- 4 использование новых средств по уходу за волосами
- 5 изменение ставки подоходного налога

8.

9.Ниже перечислены источники (формы) права. Определите, какой из источников права действует на территории РФ. Выберите один верный ответ.

- A) правовой обычай
- B) судебный прецедент
- C) религиозный текст
- D) нормативный правовой акт

Часть 2.

1. Перечислите три любых требования, которые предъявляет информационное общество к выбранной специальности/профессии.
2. Каковы социальные ожидания общества от реализации профессиональной социальной роли по выбранной специальности/профессии? Приведите не менее трех составляющих социальной роли.

ВАРИАНТ № 2

1. Ниже приведён перечень признаков. Все они, за исключением двух, относятся к искусству.

- 1) образность;
- 2) эмоциональность;
- 3) фантазия;
- 4) обоснованность;
- 5) субъективность;
- 6) гипотеза.

Найдите два признака, «выпадающих» из общего ряда, и запишите цифры, под которыми они указаны.

Ответ:

2. Выберите верные суждения о качествах человека как личности и запишите цифры, под которыми они указаны.

- 1) Человека как личность в первую очередь характеризуют унаследованные качества.
- 2) Человеку как личности свойственно приобретение социальных качеств.
- 3) Качества человека как личности проявляются в особенностях его мышления и памяти.
- 4) Человека как личность характеризуют особенности его темперамента.
- 5) Качества человека как личности в первую очередь проявляются в его участии в общественной жизни.

Ответ: _____.

3. Установите соответствие между компонентами общества как системы и примерами: к каждому элементу, данному в первом столбце, подберите соответствующий элемент из второго столбца.

ПРИМЕРЫ

- A) школа
- B) экономика

КОМПОНЕНТЫ ОБЩЕСТВА
КАК СИСТЕМЫ

- 1) сфера жизни общества

- В) семья
 - Г) государство
 - Д) культура
 - 2) социальный институт
- Ответ:

2) социальный институт

4. В отличие от животного человек способен:
реагировать с помощью органов чувств;
вырабатывать условные рефлексы;
удовлетворять потребности;
предвидеть результаты своих действий.

Ответ:

5. Укажите признак, характеризующий индустриальное общество
ведущая роль сельского хозяйства;
преобладание промышленности;
слабый уровень разделения труда;
решающее значение сферы услуг в экономике.

Ответ:

6. Установите соответствие между характеристиками и видами культуры: к каждой позиции, данной в первом столбце, подберите соответствующую позицию из второго столбца.

ХАРАКТЕРИСТИКИ

- А) анонимность произведений
- Б) ярко выраженный коммерческий характер
- В) коллективность творческих процессов
- Г) стандартизация содержания
- Д) сложность содержания

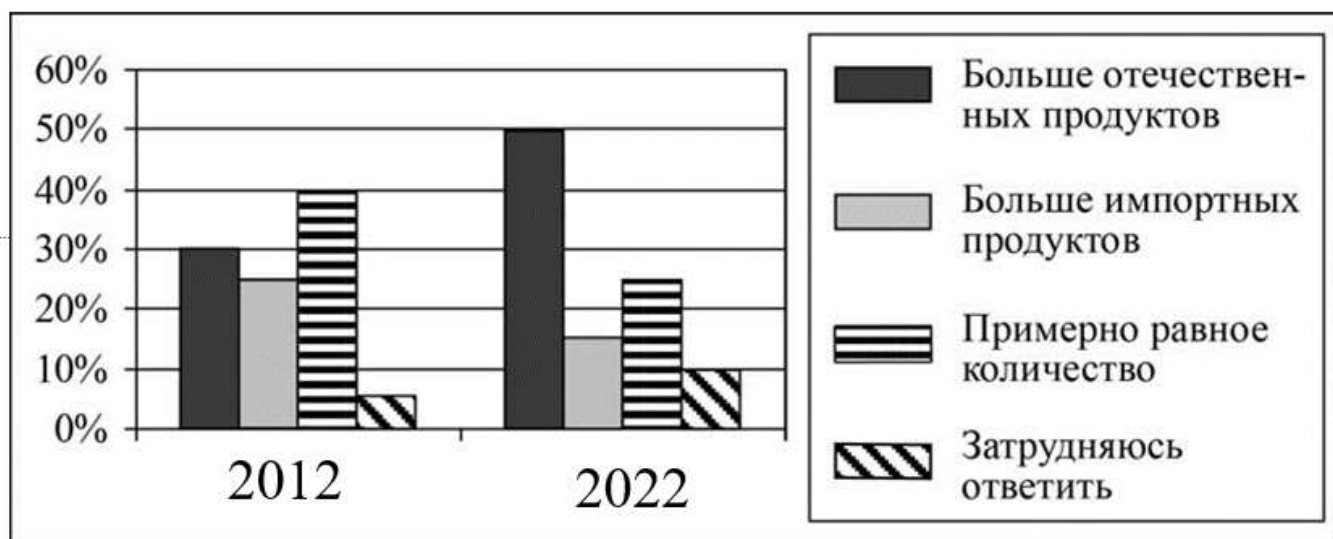
ВИДЫ КУЛЬТУР

- 1) массовая культура
- 2) народная культура
- 3) элитарная культура

Запишите выбранные цифры под соответствующими буквами

7. В 2012 г. и 2022 г. совершеннолетним жителям страны Z предложили сравнить количество отечественных и импортных продуктов в магазинах в их населённых пунктах.

Результаты опросов (в % от числа отвечавших) приведены на диаграмме.



Найдите в приведённом списке выводы, которые можно сделать на основе диаграммы, и запишите цифры, под которыми они указаны.

- 1) Доля тех, кто отметил, что в магазинах больше отечественных продуктов, выросла за 10 лет.
- 2) Доля тех, кто отметил, что в магазинах больше импортных продуктов, не изменилась за 10 лет.
- 3) Доля тех, кто отметил, что в магазинах примерно равное количество отечественных и импортных продуктов, выросла за 10 лет.
- 4) В 2012 г. доля тех, кто отметил, что в магазинах больше импортных продуктов, меньше доли тех, кто затруднился ответить.
- 5) В 2022 г. половина опрошенных отметила, что в магазинах больше отечественных продуктов.

Ответ: .

8. Установите соответствие между действиями и уровнями научного познания: к каждой позиции, данной в первом столбце, подберите соответствующую позицию из второго столбца.

ДЕЙСТВИЯ

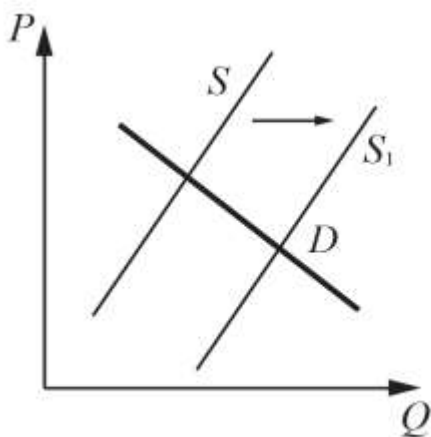
- А) наблюдение
- Б) эксперимент
- В) описание объекта
- Г) объяснение существующих взаимосвязей
- Д) формулирование закономерностей

УРОВНИ НАУЧНОГО ПОЗНАНИЯ

- 1) эмпирический
- 2) теоретический

9. На графике изображено изменение ситуации на потребительском рынке легковых автомобилей в стране Z.

Кривая предложения переместилась из положения S в положение S1 при неизменном спросе D. (На графике P – цена товара; Q – количество товара).



Как изменилась равновесная цена?

Что могло вызвать изменение предложения? Укажите любое одно обстоятельство (фактор) и объясните его влияние на предложение.

(Объяснение должно быть дано применительно к рынку, указанному в тексте задания.)

Как изменятся спрос и равновесная цена на данном рынке, если вырастут доходы населения при прочих равных условиях?

Часть 2.

1. Перечислите три любых требования, которые предъявляет информационное общество к выбранной специальности/профессии.
2. Каковы социальные ожидания общества от реализации профессиональной социальной роли по выбранной специальности/профессии? Приведите не менее трех составляющих социальной роли.

ВАРИАНТ № 3

1. В приведённом ниже ряду найдите понятие, которое обобщает/включает все остальные представленные понятия. Запишите это **слово (словосочетание)**.

Потребность, мировоззрение, сила воли, интересы, личность.

Ответ: _____.

2. Связь всех сфер жизни общества:

- A) вытекает из целостности общества как системы;
- B) достигается политической борьбой;
- C) обеспечивается идеологической работой;
- D) устанавливается законодательным путем.

Ответ:

3. В отличие от животного человек способен:

- A) реагировать с помощью органов чувств;
- B) вырабатывать условные рефлексы;
- C) удовлетворять потребности;
- D) предвидеть результаты своих действий

Ответ:

4. Выберите верные суждения об искусстве и запишите цифры, под которыми они указаны.

- 1) Искусство влияет на мировоззрение личности.
- 2) Искусство позволяет теоретически объяснить общественные явления.
- 3) Произведения искусства помогают человеку восстановить душевную гармонию, реализовать творческий потенциал.
- 4) Искусство помогает привлечь внимание общества к социальным и нравственным проблемам.
- 5) Роль искусства проявляется в оппонировании научным концепциям.

Ответ:

5. Выберите верные суждения о деятельности человека и запишите цифры, под которыми они указаны.

- 1) Деятельность человека связана с преобразованием окружающего мира.
- 2) Деятельность человека может носить только практический характер.
- 3) В отличие от поведения животных, деятельность человека определяется условными рефлексам.
- 4) В основе деятельности человека лежат потребности.
- 5) Человек сознательно изменяет окружающий мир в своих интересах.

Ответ: _____

6. В стране Z происходит широкое внедрение компьютерной техники в различные области жизни. Какие иные признаки из перечисленных свидетельствуют о том, что страна Z развивается как постиндустриальное общество? Запишите цифры, под которыми они указаны.

- 1) В экономике страны Z высокий удельный вес занимает сфера услуг.
- 2) В целях регуляции социальных отношений издаются правовые акты.
- 3) Социальная мобильность затруднена.
- 4) Природные факторы оказывают влияние на развитие общества.
- 5) Информационные технологии являются важнейшим фактором производства.
- 6) Наибольшее развитие получают наукоёмкие, ресурсосберегающие отрасли производства.

Ответ: .

7. Установите соответствие между примерами и видами налогов и сборов согласно Налоговому кодексу РФ: к каждой позиции, данной в первом столбце, подберите соответствующую позицию из второго столбца.

ПРИМЕРЫ ВИДЫ

НАЛОГОВ И СБОРОВ В РФ

- А) торговый сбор
- Б) государственная пошлина

- 1) федеральные
- 2) региональные

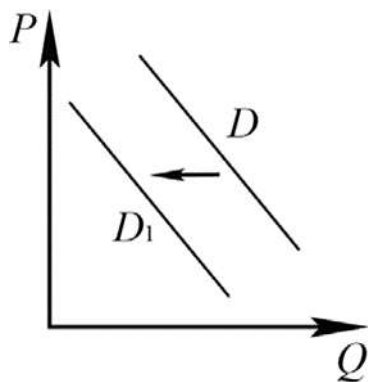
- В) налог на доходы физических лиц
 Г) налог на имущество организаций
 Д) транспортный налог
- 3) местные

Запишите в таблицу выбранные цифры под соответствующими буквами.

Ответ:

А	Б	В	Г	Д
---	---	---	---	---

8. На рисунке отражено изменение спроса на средства защиты от укусов комаров на соответствующем рынке: линия спроса D переместилась в новое положение – D_1 . (P – цена; Q – количество.)



Какие из перечисленных факторов могут вызвать такое изменение? Запишите цифры, под которыми они указаны.

- 1) окончание летнего сезона
- 2) естественное сокращение популяции комаров
- 3) рост издержек производителей средств защиты от укусов комаров
- 4) выход на рынок новых производителей средств защиты от укусов комаров
- 5) распространение информации об аллергической реакции у большинства использующих средства защиты от укусов комаров

Ответ: .

9. Исполнительную власть в Российской Федерации осуществляет

- 1) Генеральная Прокуратура
- 2) Правительство
- 3) Федеральное Собрание
- 4) Уполномоченный по правам человека
- 5) Президент

Часть 2.

1. Перечислите три любых требования, которые предъявляет информационное общество к выбранной специальности/профессии.

2. Каковы социальные ожидания общества от реализации профессиональной социальной роли по выбранной специальности/профессии? Приведите не менее трех составляющих социальной роли.

ВАРИАНТ № 4

1. Ниже приведён перечень признаков. Все они, за исключением двух, относятся к чувственному уровню познания

- А) восприятие
- Б) понятие
- В) представление
- Г) суждение
- Д) ощущение цвета и вкуса

2. Найдите два признака, «выпадающих» из общего ряда, и запишите цифры, под которыми они указаны.

Ответ:

Человека от животного, в частности, отличает наличие:

- А) кровообращения;
- Б) речи;
- С) зрения;
- Д) слуха.

Ответ:

3. Установите соответствие между характеристиками различных обществ и их типами: к каждой позиции, данной в первом столбце, подберите соответствующую позицию из второго столбца.

ХАРАКТЕРИСТИКИ

- А) господство сельского натурального хозяйства
- Б) доминирование интенсивных технологий
- В) господство общинной собственности
- Г) ведущая роль информации в жизни общества
- Д) серийное производство товаров

Запишите выбранные цифры под соответствующими буквами.

ТИПЫ ОБЩЕСТВА

- 1) традиционное
- 2) индустриальное
- 3) информационное

А	Б	В	Г	Д
---	---	---	---	---

4. Выберите верные суждения о деятельности человека и запишите цифры, под которыми они указаны.

- 1) Деятельность человека носит исключительно созидательный характер
- 2) К элементам структуры деятельности человека относят цели, средства и способы, объект.

- 3) Осуществление деятельности характерно только для человека.
- 4) Сознание человека во многом формируется в процессе деятельности.
- 5) Деятельность человека от активности животных отличает возможность использования предметов, как правило, природного происхождения в качестве орудий труда.

Ответ: _____

5. Ниже приведён перечень признаков. Все они, за исключением двух, характеризуют динамичный характер общества.

- 1) связь с природой;
- 2) изменение общественных отношений;
- 3) социальная мобильность;
- 4) отмена устаревших норм;
- 5) совершенствование социальной организации;
- 6) наличие социальных институтов.

Найдите два признака, «выпадающих» из общего ряда, и запишите цифры, под которыми они указаны.

Ответ:

6. В стране Z проводится реформа образования. Какие факты свидетельствуют о том, что реформа направлена на гуманизацию образования? Запишите цифры, под которыми они указаны.

- 1) увеличение количества учебных предметов
- 2) особое внимание нравственному воспитанию учеников
- 3) сокращение времени изучения естественных наук
- 4) информатизация образовательного процесса
- 5) ориентация на интересы и склонности ученика
- 6) применение технологий, берегающих здоровье

Ответ: _____

7. Установите соответствие между видом банка и банковскими функциями: к каждой позиции, данной в первом столбце, подберите соответствующую позицию из второго столбца.

БАНКОВСКИЕ ФУНКЦИИ

- А) денежная эмиссия
- Б) кредитование предприятий
- В) мобилизация свободных денег населения
- Г) хранение золотовалютных резервов
- Д) расчётно-кассовое обслуживание клиентов

ВИДЫ БАНКОВ

- 1) Центральный банк
- 2) коммерческий банк

Запишите выбранные цифры под соответствующими буквами.

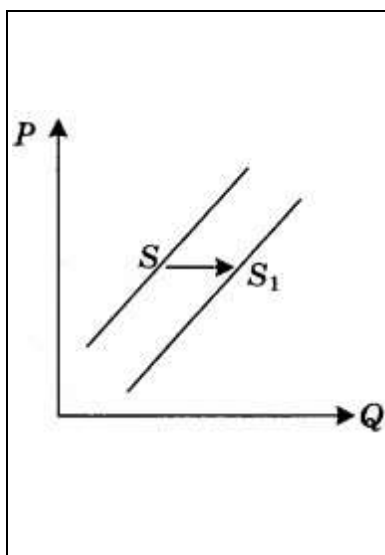
А	Б	В	Г	Д
---	---	---	---	---

8. Выберите верные суждения о характере рыночных отношений и видах рынков и запишите цифры, под которыми они указаны.

- 1) Конкуренция производителей способствует улучшению качества товаров.
- 2) Монополизация рынка ведет к снижению цен на товары и услуги.
- 3) Рынок свободной конкуренции отличает лёгкий вход на него для предприятий и сложный выход.
- 4) Рыночной конкуренции свойственна только конкуренция потребителей.
- 5) В условиях олигополии возможен контроль за ценой при тайном сговоре.

Ответ: _____.

9. На графике отражена ситуация на рынке парикмахерских услуг: линия предложения S переместилась в новое положение — S_1 (P — цена товара, Q — количество товара).



Какие из перечисленных факторов могут вызвать такое изменение? Запишите цифры, под которыми они указаны.

1. расширение сети парикмахерских
2. новые модные веяния в стилях причесок
3. снижение налогов с предприятий малого бизнеса
4. использование новых средств по уходу за волосами
5. изменение ставки подоходного налога

Ответ: _____.

Часть 2.

1. Перечислите три любых требования, которые предъявляет информационное общество к выбранной специальности/профессии.
2. Каковы социальные ожидания общества от реализации профессиональной социальной роли по выбранной специальности/профессии? Приведите не менее трех составляющих социальной роли.

